


हिन्दी

सुलेख







परिश्रम ही सफलता की कुंजी है।

परिश्रम ही सफलता की कुंजी है।



Activity Time

भारत की ऐतिहासिक इमारतों के चित्र चिपकाइए-







सुलेख

हमें समय का सदुपयोग करना चाहिए।

हमें समय का सदुपयोग करना चाहिए।


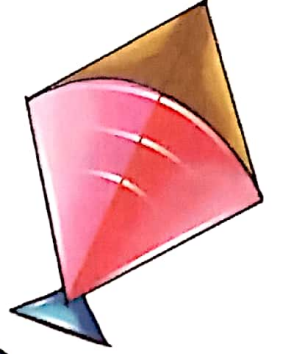
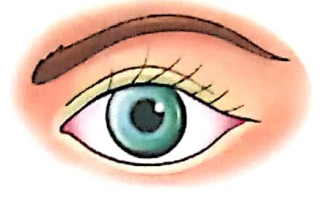
Activity Time

पेड़ व पौधों के चित्र चिपकाइए-



नीचे दिए गए शब्दों के वचन बदलिए-

1. आँख _____
2. किताब _____
3. पतंग _____
4. जूता _____
5. तितली _____
6. कहानी _____
7. सड़क _____
8. तारा _____
9. मिठाई _____
10. चप्पल _____
11. नदी _____
12. लड़का _____



विलोम शब्द

नीचे दिए गए शब्दों को उनके विलोम शब्दों से मिलाइए-

- | | |
|-----------|-------|
| 1. हँसना | बाहर |
| 2. कोमल | अच्छा |
| 3. अँधेरा | रोना |
| 4. सच्चा | पतला |
| 5. आगे | गरीब |
| 6. बुरा | दूर |
| 7. ऊपर | कठोर |
| 8. अन्दर | उजाला |
| 9. अमीर | पीछे |
| 10. मित्र | नीचे |
| 11. पास | झूठा |
| 12. मोटा | शत्रु |



नीचे दिए गए शब्दों के लिंग बदलिए-

1. राजा

2. भाई

3. पत्नी

4. माता

5. दर्जी

6. शिक्षक

7. धोबी

8. दादा

9. घोड़ा

10. आदमी



A. Arrange these numbers in ascending order :

1. 48, 56, 22, 35, 51, 63

2. 49, 63, 26, 13, 55, 95

3. 93, 74, 86, 47, 39, 45



B. Arrange these numbers in descending order :

1. 90, 78, 30, 41, 72, 63

2. 10, 8, 69, 47, 58, 42

3. 91, 88, 14, 14, 56, 38



A. Write the expanded form of each of the following :

1. $258 =$ _____

2. $792 =$ _____

3. $644 =$ _____

4. $980 =$ _____

5. $338 =$ _____

6. $504 =$ _____

7. $400 =$ _____



B. Write in short form :

1. $600 + 30 + 4 =$ _____

2. $800 + 50 + 3 =$ _____

3. $200 + 00 + 1 =$ _____

4. $500 + 00 + 0 =$ _____

5. $600 + 90 + 7 =$ _____

6. $700 + 10 + 2 =$ _____

7. $900 + 40 + 0 =$ _____

A. Write the number names :

1. 835 = _____
2. 239 = _____
3. 462 = _____
4. 953 = _____
5. 740 = _____
6. 907 = _____
7. 221 = _____
8. 170 = _____

B. Write the numerals :

- | | |
|-----------------------------|---------|
| 1. Four hundred thirty five | = _____ |
| 2. Nine hundred eighty | = _____ |
| 3. Six hundred twenty two | = _____ |
| 4. Two hundred fifty nine | = _____ |
| 5. Seven hundred forty one | = _____ |
| 6. Five hundred sixty three | = _____ |
| 7. Eight hundred ninety six | = _____ |
| 8. Three hundred eleven | = _____ |

